

**ПРОМЕЖУТОЧНАЯ АТТЕСАЦИЯ ПО ЭКОНОМИКЕ 10 класс**  
**Демонстрационный вариант**

**Задание 1**

Выберите верные суждения об экономической науке и запишите цифры, под которыми они указаны.

- 1) Экономическая наука обеспечивает удовлетворение потребностей общества в товарах и услугах.
- 2) Экономическая наука изучает общие закономерности хозяйственной деятельности человека.
- 3) Экономическая наука исследует деятельность и взаимодействие государств, фирм и домохозяйств.
- 4) Экономика как наука включает макроэкономику, микроэкономику, мировую экономику.
- 5) К функциям экономической науки относится регулирование межгосударственного взаимодействия.

**Задание 2**

Запишите слово, пропущенное в таблице.

**ФАКТОРЫ ПРОИЗВОДСТВА**

<b>ФАКТОРЫ ПРОИЗВОДСТВА</b>	<b>СУЩНОСТЬ</b>
Труд	Деятельность людей по производству товаров и услуг путём использования их умственных и физических способностей, полученных в процессе обучения и работы знаний и навыков
...	Все виды природных ресурсов, имеющихся на планете и пригодных для производства экономических благ

**Задание 3**

Установите соответствие между характеристиками и факторами производства: к каждой позиции, данной в первом столбце, подберите соответствующую позицию из второго столбца.

**ХАРАКТЕРИСТИКИ**

- А) инициативная новаторская деятельность, благодаря которой происходит соединение всех факторов производства
- Б) факторный доход - рента
- В) условное название всех видов природных ресурсов, пригодных для производства жизненных благ
- Г) здания, сооружения, оборудование
- Д) денежные средства

**ФАКТОРЫ  
ПРОИЗВОДСТВА**

- 1) земля
- 2) капитал
- 3) предпринимательство (предпринимательские способности)

Запишите в ответ цифры, расположив их в порядке, соответствующем буквам:

А	Б	В	Г	Д

**Задание 4**

В приведённом ниже ряду найдите понятие, которое является обобщающим для всех остальных представленных понятий. Запишите это слово (словосочетание).

*Зарплата, факторный доход, рента, процент, прибыль.*

### Задание 5

Установите соответствие между характеристиками и видами экономических систем: к каждой позиции, данной в первом столбце, подберите соответствующую позицию из второго столбца.

#### ХАРАКТЕРИСТИКА

#### ТИП ЭКОНОМИЧЕСКОЙ СИСТЕМЫ

А) средства производства распределяются между отраслями на основании долговременных приоритетов, определяемых плановым органом

1) традиционная

2) командная

3) рыночная

Б) перечень благ, технология производства и распределение базируются на обычаях данной страны

В) повышение качества товаров и услуг в условиях конкурентной борьбы

Г) значительная роль ручного труда во всех отраслях экономики

Д) правомочность предприятий в заключении сделок по своему усмотрению

Запишите в ответ цифры, расположив их в порядке, соответствующем буквам:

А	Б	В	Г	Д

### Задание 6

Выберите в представленном ниже перечне верные суждения о функциях рынка и запишите цифры, под которыми они указаны.

1) Интегрирующая функция рынка заключается в том, что рынок с помощью конкуренции воздействует на сокращение затрат и заставляет товаропроизводителей быть конкурентоспособными.

2) Посредством цен рынок стимулирует освоение достижений научнотехнического прогресса, снижение затрат, повышение качества, расширение ассортимента товаров и услуг.

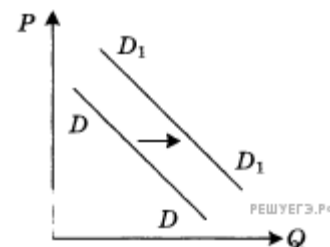
3) Ценообразующая функция рынка — это установление ценовых эквивалентов для обмена товаров и услуг.

4) Посредническая функция рынка обеспечивает взаимодействие экономически обособленных производителей и потребителей с целью обмена результатами труда.

5) Контролирующая функция рынка даёт участникам рынка объективную информацию о спросе и предложении товаров и услуг на рынке.

### Задание 7

На графике отражена ситуация на рынке изделий из текстиля (постельного белья, махровых полотенец и др.): линия спроса  $D$  переместилась в новое положение  $D_1$  ( $P$  — цена товара,  $Q$  — объем спроса товара). Какие из перечисленных факторов могут вызвать такое изменение? Запишите цифры, под которыми они указаны.



1) расширение гостиничного бизнеса

2) появление новых видов искусственных тканей

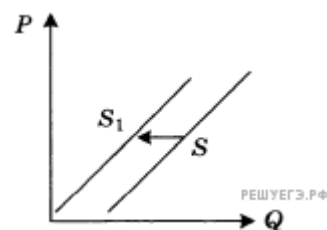
3) увеличение числа производителей домашнего текстиля

4) рост налогов с производителей текстильной продукции

5) рост доходов потребителей текстильных изделий

### Задание 8

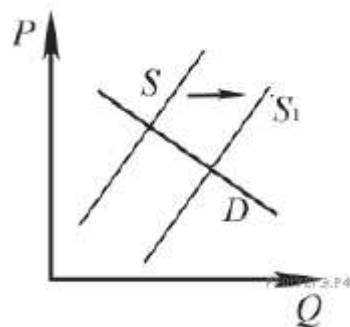
На графике отражена ситуация на рынке ремонтно-строительных услуг: линия предложения  $S$  переместилась в новое положение  $S_1$  ( $P$  — цена товара,  $Q$  — количество товара). Какие из перечисленных факторов могут вызвать такое изменение? Запишите цифры, под которыми они указаны.



- 1) выдача льготных кредитов организациям, занимающимся строительством и ремонтом
- 2) увеличение доходов потребителей услуг рынка
- 3) развитие рынка жилищного строительства
- 4) рост налогов, уплачиваемых ремонтно-строительными организациями
- 5) повышение цен на строительные материалы

### Задание 9

На графике изображено изменение ситуации на потребительском рынке легковых автомобилей в стране Z. Кривая предложения переместилась из положения  $S$  в положение  $S_1$  при неизменном спросе  $D$ . (На графике  $P$  — цена товара;  $Q$  — количество товара).



Как изменилась равновесная цена?

Что могло вызвать изменение предложения?

Укажите любое одно обстоятельство (фактор) и объясните его влияние на предложение. (Объяснение должно быть дано применительно к рынку, указанному в тексте задания.)

Как изменятся спрос и равновесная цена на данном рынке, если вырастут доходы населения при прочих равных условиях?

### Задание 10

Алина и Сергей составляют бизнес-план развития своего предприятия. Что из перечисленного они могут использовать как источники финансирования своего бизнеса? Запишите цифры, под которыми эти источники.

- 1) совершенствование производственных технологий
- 2) амортизационный фонд
- 3) повышение производительности труда
- 4) доходы от реализации продукции предприятия
- 5) привлечение кредитов
- 6) налоговые отчисления